




Objective: Conocer las fracciones propias, lectura y escritura.

¿Qué son las fracciones?

Las fracciones son parte de un todo. Recuerda las fracciones están asociadas al número de regiones congruentes obtenidas al fraccionar un entero considerado como unidad.

Activity 1: Pinta 3 partes.



Esta unidad o entero está dividida en 8 partes iguales (equivalentes). De estas 8 partes, pintaste tres.

En este caso la fracción se representa así:

$$\frac{3}{8}$$

Se lee "Tres octavos".



Activity 2: Divide el entero en partes iguales, según se indique en cada caso.

Medios	
Tercios	
Cuartos	
Quintos	
Sextos	



Activity 3: Sigue cada instrucción y luego Indica qué fracción representa cada una de estas figuras.

Instrucción	Colorea	Escribe la fracción.
• Pinta 1.		
• Pinta 2.		
• Pinta 4.		
• Pinta 3.		

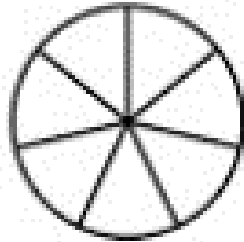


Activity 4: Colorea según se indica en cada fracción.

FRACCIONES	
Color $\frac{1}{4}$	Color $\frac{2}{5}$
Color $\frac{1}{3}$	Color $\frac{1}{5}$
Color $\frac{2}{4}$	Color $\frac{3}{4}$
Color $\frac{2}{3}$	Color $\frac{4}{5}$
Color $\frac{3}{5}$	Color $\frac{1}{2}$



Activity 5: Observa estas regiones, sigue la instrucción en cada una y luego completa las frases.



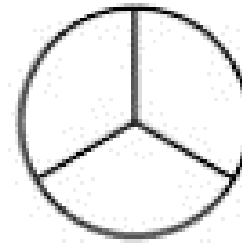
- Pinta 4.

Esta región está dividida en ___ partes equivalentes. Hay ___ partes pintadas y ___ partes sin pintar.

Están pintadas ___ de ___ partes.

Por lo tanto se escribe así (escribe la fracción)

Se escribe en palabras así:



- Pinta 2.

Esta región está dividida en ___ partes equivalentes. Hay ___ partes pintadas y ___ partes sin pintar.

Están pintadas ___ de ___ partes.

Por lo tanto se escribe así (escribe la fracción)

Se escribe en palabras así:





RECUERDA



LA FRACCIÓN ESTÁ FORMADA POR DOS TÉRMINOS:

- **El numerador** indica el número de partes que se toman del entero.
- **El denominador** indica la cantidad de veces que se divide el entero.



¡FELIZ DÍA DEL ESTUDIANTE!



Activity 6: Escribe las siguientes fracciones y luego pinta.

	(escribe la fracción)	
Tres quintos.	<input type="text"/>	
Cinco novenos,	<input type="text"/>	
Seis octavos.	<input type="text"/>	
Cuatro séptimos.	<input type="text"/>	
Un décimo	<input type="text"/>	