

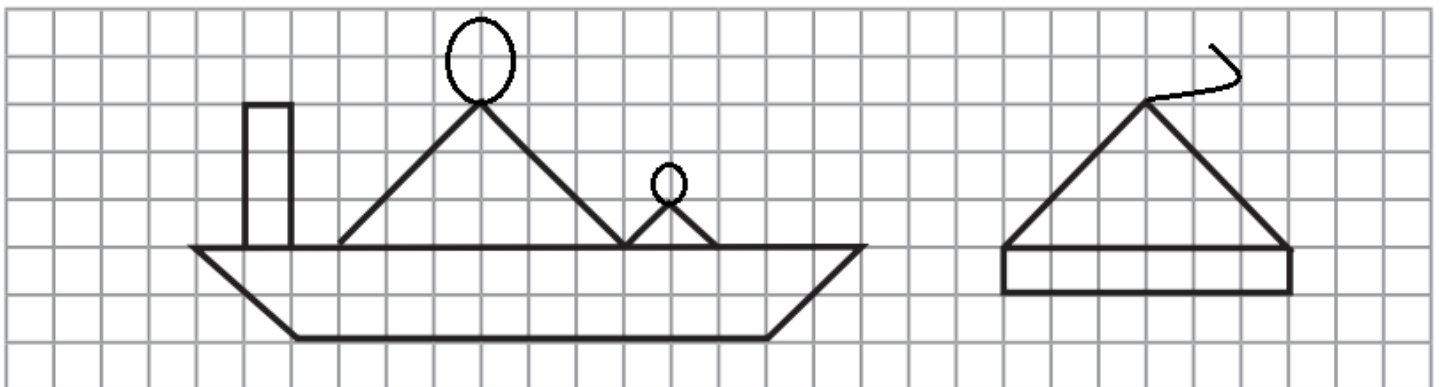


MATERIAL DE UNIDAD DE GEOMETRÍA

OA: Identificar figuras planas (2d) y sus elementos.

1) Une con una línea cada figura geométrica con su nombre correspondiente.




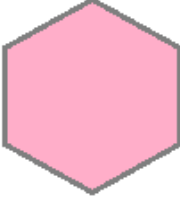

2) Observa la imagen y completa según corresponda:



LÍNEAS Y FIGURAS	DIBUJO	CANTIDADES
Líneas Rectas		
Líneas Curvas		
Círculos		
Triángulos		
Rectángulos		



3) Relaciona, uniendo con una línea, cada polígono con el número de lados que tiene.

	•	• 8
	•	• 3
	•	• 6
	•	• 4
	•	• 5

4) Pinta el dibujo con los siguientes colores:

rectángulo: azul círculo: amarillo	triángulo: naranja trapecio: verde	cuadrado: morado hexágono: rojo
---------------------------------------	---------------------------------------	------------------------------------

